




## Preguntas Categoría B

	<p>Determine qué indica la señal que a continuación se presenta:</p> <ul style="list-style-type: none"><li>A. Proximidad de bosques.</li><li>B. Zonas de palmeras.</li><li>C. <b>Vientos fuertes laterales.</b></li></ul>
	<p>Cuando se debe cruzar la acera (vereda) para salir a la vía pública ¿de quién se presume que es la responsabilidad si se produce un accidente con un peatón u otro vehículo?</p> <ul style="list-style-type: none"><li>A. Del peatón, por no tomar la precaución al llegar a una salida de vehículos.</li><li>B. Del conductor del otro vehículo, por no tener cuidado.</li><li>C. <b>Del conductor del vehículo que sale a la vía pública.</b></li></ul>
	<p>En algunas vías de tránsito podemos encontrar marcas en el piso o bien carteles con signos similares a una V invertida ¿qué significados tienen esos signos o marcas?</p> <ul style="list-style-type: none"><li>A. <b>Que estamos en una zona donde frecuentemente hay niebla.</b></li><li>B. Que estamos en una zona de velocidad controlada (radar).</li><li>C. Que estamos en una zona que se inunda.</li></ul>
	<p>¿Quién es el responsable civil por un accidente de tránsito producido por un menor de edad poseedor de una licencia de conductor?</p> <ul style="list-style-type: none"><li>A. El que lo acompaña.</li><li>B. <b>El que firmó la autorización para obtener la licencia.</b></li><li>C. El que le autorizó el uso del vehículo.</li></ul>
	<p>Cuando se estaciona en proximidad de una esquina ¿qué línea no debe superarse?</p> <ul style="list-style-type: none"><li>A. La línea peatonal.</li><li>B. <b>La línea imaginaria de prolongación de ochava.</b></li><li>C. La línea de edificación transversal.</li></ul>
	<p>En materia de señalamiento horizontal o demarcación horizontal ¿qué se entiende por "isleta"?</p> <ul style="list-style-type: none"><li>A. <b>Son las marcas canalizadoras y orientadoras de tránsito. No se puede traspasar o circular sobre ellas.</b></li><li>B. Son marcas en la calzada que indican lugares donde está permitido detenerse.</li><li>C. Son marcas en la calzada que indican lugares donde está permitido estacionarse y/o detenerse.</li></ul>
	<p>Con carácter general, cuando nos encontramos con una señal de "PROHIBIDO ESTACIONAR" ¿está permitido parar para subir o bajar pasajeros de un automóvil?"</p>

	<p>A. <b>Si.</b> B. No. C. Según la hora.</p>
	<p>En esta intersección ¿qué vehículo pasa en primer lugar?</p> <p>A. <b>El automóvil rojo.</b> B. El ciclomotor. C. La furgoneta amarilla.</p>
	<p>¿Qué significa el término “culposo” en materia de accidentes de tránsito?</p> <p>A. Que es responsable por actuar con intención de provocar un daño. B. <b>Que no obró con intención de provocar un daño.</b> C. Que no estaba habilitado para conducir.</p>
	<p>¿Cómo debe indicar a un vehículo que pretende sobrepasar al suyo que no debe hacerlo?</p> <p>A. Encendiendo las luces llamadas balizas. B. <b>Accionando la luz indicadora de giro a la izquierda.</b> C. Accionando la luz indicadora de giro a la derecha.</p>
	<p>En la ciudad ¿está permitido circular marcha atrás?</p> <p>A. <b>Sólo para estacionar, entrar o salir de un garaje (cuando no hay otra posibilidad) o salvar un obstáculo.</b> B. Cuando es por pocos metros. C. Solamente de día.</p>
	<p>¿Qué distancia debe dejarse libre cuando se va a estacionar frente a la entrada de hospitales, escuelas, templos u otros organismos públicos?</p> <p>A. <b>10 metros de cada lado de la entrada.</b> B. Todo el frente del edificio. C. 5 metros de cada lado de la entrada.</p>
	<p>Si circula con su vehículo en un día de niebla ¿qué precaución, entre otras, debe tomar?</p> <p>A. <b>Adaptar la velocidad del vehículo a la visibilidad de la vía.</b> B. Dejar una distancia mínima de 50 metros respecto del vehículo que circula delante. C. No efectuar ninguna maniobra.</p>
	<p>Si para adelantar debe invadir un carril exclusivo para colectivos y taxis ¿le está permitido realizar la maniobra?</p> <p>A. <b>No, porque está prohibido utilizar dicho carril.</b> B. Sí, cuando la línea longitudinal del lado exterior de este carril sea discontinua. C. Sí, porque sólo se permite su utilización para realizar alguna maniobra.</p>
	<p>En una autopista, ¿está permitido remolcar con su vehículo a otro que se encuentra descompuesto?</p>



	<p>A. Sí, pero sólo hasta el lugar más próximo donde pueda quedar inmovilizado.</p> <p>B. Sí, pero sólo si soy titular de un permiso que autoriza a conducir vehículos con remolque.</p> <p><b>C. No, porque está prohibido.</b></p>
	<p>Ud. ha adelantado a otro vehículo en una intersección. ¿Es correcto su comportamiento?</p> <p>A. Sí, porque en este caso tengo prioridad de paso en la intersección.</p> <p><b>B. No, porque en las intersecciones siempre está prohibido adelantar.</b></p> <p>C. No, porque sólo está permitido adelantar en las intersecciones con rotonda.</p>
	<p>¿Cuál de la tres señales indica que la ruta es nacional?</p> <p>A. La señal A.</p> <p><b>B. La señal B.</b></p> <p>C. La señal C.</p>
	<p>Todo vehículo debe estar cubierto por un seguro ¿qué daños debe cubrir el mismo?</p> <p><b>A. Debe cubrir eventuales daños causados a terceros transportados o no.</b></p> <p>B. Debe cubrir eventuales daños causados a terceros transportados únicamente.</p> <p>C. Debe cubrir los daños causados a los vehículos únicamente.</p>
	<p>Esta señal indica que ha finalizado:</p> <p>A. Una obligación anterior.</p> <p>B. Una recomendación anterior.</p> <p><b>C. Una prohibición anterior.</b></p>
	<p>Por norma general, las luces traseras de los vehículos deben ser de color rojo (de posición y freno) y amarillas (giros) ¿por qué la luz de marcha atrás debe ser blanca?</p> <p>A. Porque así se las diferencia de las luces de freno, de posición y de las luces de giro.</p> <p><b>B. Porque indica el sentido de circulación. La luz blanca significa que el vehículo circula en sentido contrario al nuestro.</b></p> <p>C. Porque por su color blanco se obtiene mejor visión cuando la maniobra de retroceso se deba realizar de noche o en condiciones de poca visibilidad.</p>
	<p>El que conduce un vehículo ¿qué documentación personal debe llevar consigo?</p> <p>A. La licencia de conductor es suficiente.</p> <p><b>B. La licencia de conductor y su documento de identidad.</b></p> <p>C. La licencia de conductor, su documento de identidad y la cédula verde.</p>
	<p>¿Está permitido en los vehículos agregar en los paragolpes aditamentos (defensas, etc.) de cualquier naturaleza, que puedan considerarse peligrosos para personas u otros vehículos?</p> <p><b>A. No está permitido modificar paragolpes originales de fábrica agregándoles elementos que puedan considerarse peligrosos o agresivos.</b></p> <p>B. Pueden agregarse defensas en vehículos pequeños.</p> <p>C. Depende de la zona donde se circule.</p>

	<p>Las balizas portátiles que es obligatorio llevar en los vehículos ¿deben ser los conocidos triángulos reflectivos o pueden ser de otro tipo?</p> <p>A. Deben ser únicamente los triángulos reflectivos. <b>B. Pueden ser otras, incluso eléctricas, pero deben ser de igual o mayor eficacia que los triángulos.</b> C. Depende del vehículo.</p>
	<p>¿Cuándo está permitido estacionar en ángulo con el cordón de la acera derecha y/o izquierda?</p> <p>A. Sólo cuando la calle es ancha. <b>B. Sólo cuando el señalamiento lo indica.</b> C. Sólo cuando es de un lado solamente.</p>
	<p>¿Qué identifica la Cruz de San Andrés?</p> <p>A. Cruce de caminos. <b>B. Cruce de vías férreas.</b> C. Cruce de peatones.</p>
	<p>Si Ud. sale de un estacionamiento paralelo al cordón, previamente debe:</p> <p>A. Tocar bocina e incorporarse al tránsito pasante. <b>B. Salir con precaución cuando no haya tránsito pasante y colocar la luz de giro.</b> C. Salir lo más rápido posible porque tiene prioridad.</p>
	<p>¿Qué debe hacer si observa que un vehículo está a punto de alcanzarlo y pasarlo?</p> <p><b>A. Ceñirse bien a la derecha, y si es necesario, bajar la velocidad.</b> B. Aumentar la velocidad. C. Es indiferente la velocidad de su vehículo.</p>
	<p>En zona rural, cuando un peatón transita por la banquina ¿por qué lado debe caminar?</p> <p><b>A. Caminar en sentido contrario al tránsito que viene hacia él.</b> B. Transitar lo más próximo a la ruta. C. Caminar en el mismo sentido que el tránsito.</p>
	<p>¿Qué es un carril de circulación vehicular?</p> <p>A. Banquina de la izquierda. B. Banquina de la derecha. <b>C. Franja de la calzada por donde circulan los vehículos en una fila.</b></p>
	<p>¿Cuál es la forma correcta de adelantarse a otro vehículo?</p> <p>A. Por la derecha. B. Por la banquina. <b>C. Por la izquierda, haciendo las señales respectivas.</b></p>

	<p>¿Qué debe entenderse por bocacalle?</p> <p><b>A. La zona de la calzada común a dos o más arterias, incluidas las sendas o pasos peatonales.</b></p> <p>B. El lugar donde se cruzan una calle con una avenida.</p> <p>C. El lugar donde se cruzan dos autopistas.</p>
	<p>¿Cuál es la velocidad máxima permitida en avenidas, salvo señalización que indique lo contrario?</p> <p>A. 80 km/h.</p> <p><b>B. 60 km/h.</b></p> <p>C. 40 km/h.</p>
	<p>¿Cuál es la velocidad máxima permitida en calles?</p> <p>A. 30 km/h.</p> <p><b>B. 40 km/h.</b></p> <p>C. 50 km/h.</p>
	<p>Cuando un vehículo circula por una arteria ubicada al costado de una vía férrea ¿es obligatorio ceder el paso a otro que sale del paso a nivel?</p> <p>A. Sí, si viene desde la derecha.</p> <p>B. No, si viene desde la izquierda.</p> <p><b>C. Debe cedérsele el paso, venga de la izquierda o de la derecha.</b></p>
	<p>¿Cómo norma general, cuál es la velocidad máxima permitida en autopistas, en el ámbito de la Ciudad Autónoma de Buenos Aires?</p> <p>A. 70 km/h.</p> <p><b>B. 100 km/h.</b></p> <p>C. 120 km/h.</p>
	<p>Entre los efectos que produce el alcohol en el conductor se encuentra la:</p> <p><b>A. Incorrecta apreciación de distancias y velocidades.</b></p> <p>B. Ampliación del campo visual.</p> <p>C. Disminución de la distancia de frenado.</p>
	<p>La instalación del airbag en un vehículo ¿sustituye la obligación de utilizar el cinturón de seguridad?</p> <p>A. Sí, porque evita el impacto del conductor y pasajeros contra los elementos del vehículo.</p> <p>B. Sí, porque evita lesiones en el cabeza y cuello.</p> <p><b>C. No, porque actúa complementando la protección que ofrece el cinturón de seguridad.</b></p>
	<p>Usted ha sufrido un desperfecto en su vehículo y lo ha dejado inmovilizado en la banquina. ¿Debe señalizarlo?</p>

	<p>A. No, porque el vehículo no está en la calzada.          B. Sí, con los triángulos de señalización de peligro.  <b>C. Sí, con las balizas encendidas, los triángulos de señalización de peligro y con las luces de posición.</b></p>
	<p>Un triángulo pintado en la calzada, ¿qué significa?</p> <p>A. Advierte de la proximidad de un peligro.  <b>B. La obligación de ceder el paso en el cruce.</b>          C. La prioridad de paso en el cruce.</p>
	<p>En zona urbana, cuando es obligatorio llevar encendidas las luces de un vehículo ¿cuáles debemos utilizar?</p> <p>A. Las luces de posición y las altas.          B. Las del interior del vehículo.  <b>C. Las luces de posición y las bajas.</b></p>
	<p>Con carácter general ¿qué vehículo tiene prioridad de paso en una pendiente?</p> <p><b>A. Los vehículos que ascienden por sobre los que descienden.</b>          B. Los vehículos que descienden por sobre los que ascienden.          C. Depende lo que indique la señal correspondiente.</p>
	<p>¿Qué es un carril de aceleración?</p> <p>A. Es el carril derecho de una autopista.  <b>B. Es el carril de incorporación a una autopista.</b>          C. Es el carril izquierdo de una autopista.</p>
	<p>Si el conductor de un vehículo circula con las balizas encendidas, toca repetidamente la bocina y el acompañante saca el brazo agitando un pañuelo. ¿Qué están indicando?</p> <p>A. Que el vehículo tiene un desperfecto.  <b>B. Que transportan a una persona grave a un hospital.</b>          C. Al exceso de velocidad y a la violación de luz roja.</p>
	<p>¿Cuál es la velocidad máxima permitida en autopistas, según la Ley 24.449?</p> <p>A. 60 km./h.          B. 80 km./h.  <b>C. 130 km./h.</b></p>
	<p>¿Quién tiene prioridad de paso en una rotonda?</p> <p><b>A. El vehículo que circula por la rotonda sobre el que intenta ingresar; y el vehículo que egresa sobre el que intenta ingresar o continúa circulando.</b>          B. El vehículo que quiere ingresar a la rotonda por sobre el que quiere egresar de la misma.          C. El vehículo que quiere ingresar a la rotonda sobre el que está circulando en la misma.</p>

	<p>En caso de niebla ¿es mejor parar en la banquina?</p> <p>A. Cuando la niebla es muy cerrada; sí. <b>B. Nunca, si no hay otra posibilidad, debe alejarse lo más posible de la calzada y de la banquina.</b> C. Cuando la niebla no es muy cerrada; sí.</p>
	<p>Antes de iniciar un giro, ¿a qué distancia mínima del cruce debe estar ubicado el vehículo sobre el carril más próximo al cordón del lado que va a doblar?</p> <p>A. 10 metros. B. 20 metros. <b>C. 30 metros.</b></p>
	<p>Determine qué indica la señal que a continuación se presenta:</p> <p><b>A. Contramano.</b> B. Rotonda. C. Puesto de control.</p>
	<p>Determine qué indica la señal que a continuación se presenta:</p> <p>A. Estrechamiento en las dos manos. <b>B. Puente angosto.</b> C. Calzada dividida.</p>
	<p>Determine qué indica la señal que a continuación se presenta:</p> <p>A. Prohibición de estacionar. <b>B. No estacionar ni detenerse.</b> C. Estacionamiento exclusivo.</p>
	<p>Determine qué indica la señal que a continuación se presenta:</p> <p><b>A. Inicio de doble circulación.</b> B. Calzada dividida. C. Camino sinuoso.</p>
	<p>Determine qué indica la señal que a continuación se presenta:</p> <p><b>A. Altura limitada (máxima).</b> B. Ancho limitado. C. Puente angosto.</p>

	<p>Determine qué indica la señal que a continuación se presenta:</p> <ul style="list-style-type: none"><li>A. Rotonda.</li><li><b>B. Calzada dividida.</b></li><li>C. Inicio doble mano.</li></ul>
	<p>Determine qué indica la señal que a continuación se presenta:</p> <ul style="list-style-type: none"><li>A. Estrechamiento (en una mano).</li><li>B. Calzada dividida.</li><li><b>C. Estrechamiento (en las dos manos).</b></li></ul>
	<p>Determine qué indica la señal que a continuación se presenta:</p> <ul style="list-style-type: none"><li><b>A. Limitación de altura.</b></li><li>B. Limitación de ancho.</li><li>C. Limitación de peso.</li></ul>
	<p>Determine qué indica la señal que a continuación se presenta:</p> <ul style="list-style-type: none"><li>A. Encrucijada.</li><li>B. Camino lateral.</li><li><b>C. Incorporación de tránsito lateral.</b></li></ul>
	<p>Determine qué indica la señal que a continuación se presenta:</p> <ul style="list-style-type: none"><li><b>A. Ceda el paso.</b></li><li>B. Atención.</li><li>C. Carril exclusivo de colectivos.</li></ul>
	<p>Determine qué indica la señal que a continuación se presenta:</p> <ul style="list-style-type: none"><li>A. Contramano.</li><li>B. No avanzar.</li><li><b>C. Pare.</b></li></ul>
	<p>Determine qué indica la señal que a continuación se presenta:</p> <ul style="list-style-type: none"><li>A. Curva (común).</li><li><b>B. Curva (en S).</b></li><li>C. Calzada dividida.</li></ul>
	<p>Determine qué indica la señal que a continuación se presenta:</p> <ul style="list-style-type: none"><li>A. Limitación de altura.</li><li><b>B. Limitación de peso.</b></li><li>C. Limitación de ancho.</li></ul>





Determine qué indica la señal que a continuación se presenta:

- A. **Limitación de ancho.**
- B. Limitación de altura.
- C. Puente angosto.



Determine qué indica la señal que a continuación se presenta:

- A. Estrechamiento (en dos manos).
- B. **Estrechamiento (en una mano).**
- C. Puente angosto.

Ingerir alimentos antes de conducir puede afectar negativamente a la conducción. Por tanto, antes de iniciar un viaje y para evitar la aparición de sueño debe:

- A. Abstenerse de ingerir alimentos para viajar en ayunas.
- B. Ingerir alimentos de alto contenido en grasas, que dan mayor vitalidad.
- C. **Ingerir alimentos ligeros, de bajo poder calórico, que son de fácil digestión.**

El camión de la fotografía está detenido por un tiempo indeterminado en doble fila durante el reparto de la mercancía, ¿es correcta su posición en la calzada?






- A. Sí.
- B. **No.**
- C. Sí, siempre que lo haga en el horario permitido para carga y descarga.

El vehículo que se observa en la fotografía lleva una señal de color naranja con reborde negro, compuesta por dos rectángulos y números en su interior ¿qué significa?






- A. **Que el vehículo transporta mercancía peligrosas determinadas por los números.**
- B. Que el vehículo excede en masas y dimensiones.
- C. Que el vehículo lleva una patente extranjera.

	<p>Determine qué indica la señal que a continuación se presenta:</p> <ul style="list-style-type: none"><li>A. Proyección de piedras.</li><li><b>B. Zona de derrumbe.</b></li><li>C. Calzada resbaladiza.</li></ul>
	<p>Determine qué indica la señal que a continuación se presenta:</p> <ul style="list-style-type: none"><li>A. Camino sinuoso.</li><li><b>B. Calzada resbaladiza.</b></li><li>C. Curva y contracurva.</li></ul>
	<p>Determine qué indica la señal que a continuación se presenta:</p> <ul style="list-style-type: none"><li>A. Zona de derrumbe.</li><li>B. Calzada resbaladiza.</li><li><b>C. Proyección de piedras.</b></li></ul>
	<p>Determine qué indica la señal que a continuación se presenta:</p> <ul style="list-style-type: none"><li><b>A. Cruce de peatones.</b></li><li>B. Peatones a la izquierda.</li><li>C. Prohibición de circular.</li></ul>
	<p>Determine qué indica la señal que a continuación se presenta:</p> <ul style="list-style-type: none"><li><b>A. Curva cerrada.</b></li><li>B. Curva (común).</li><li>C. Calzada resbaladiza.</li></ul>
	<p>Determine qué indica la señal que a continuación se presenta:</p> <ul style="list-style-type: none"><li><b>A. Puesto de control.</b></li><li>B. Contramano.</li><li>C. No avanzar.</li></ul>
	<p>Determine qué indica la señal que a continuación se presenta:</p> <ul style="list-style-type: none"><li><b>A. Túnel.</b></li><li>B. Puente angosto.</li><li>C. Altura mínima.</li></ul>

	<p>Determine qué indica la señal que a continuación se presenta:</p> <p>A. Vientos fuertes laterales.          B. Estrechamiento.  <b>C. Atención.</b></p>
	<p>Determine qué indica la señal que a continuación se presenta:</p> <p>A. No estacionar.  <b>B. Estacionamiento exclusivo.</b>          C. No estacionar ni detenerse.</p>
	<p>Determine qué indica la señal que a continuación se presenta:</p> <p><b>A. Paso obligado (derecha).</b>          B. Paso obligado (izquierda).          C. Encrucijada (cruce).</p>
	<p>A las placas de identificación de dominio (chapas patente) ¿está permitido ubicarlas en la luneta trasera del vehículo u otro lugar que nosotros deseamos?</p> <p>A. Si, siempre que sean bien visibles.          B. Sí, pero solo la placa trasera.  <b>C. No, las placas deben ubicarse en los lugares indicados para ello, sin excepción.</b></p>
	<p>Si la luz verde del semáforo nos da paso en un cruce de calles y por la transversal aún avanza algún vehículo ¿qué debemos hacer?</p> <p><b>A. No iniciar el cruce, hasta que los demás vehículos hayan completado el suyo.</b>          B. Avanzar, la prioridad es nuestra porque tenemos luz verde.          C. Esperar hasta que se reinicie el verde.</p>
	<p>Con carácter general, ¿está prohibido en zona urbana el uso de bocina en los vehículos?</p> <p>A. No, está permitido.          B. Si, está prohibido.  <b>C. Está prohibido el uso indebido de la bocina.</b></p>
	<p>¿Cuál es el nivel máximo de alcoholemia admitido para conducir un automóvil particular?</p> <p>A. 0,8 gr. por litro de sangre.  <b>B. 0,5 gr. por litro de sangre.</b>          C. 1,5 gr. por litro de sangre.</p>
	<p>Cuando no hay senda peatonal marcada en el piso ¿por dónde debemos cruzar las calles?</p> <p>A. A mitad de cuadra.          B. En coincidencia con las paradas de transporte.  <b>C. En la esquina, por la prolongación de la vereda sobre la calle.</b></p>
	<p>Ud. está llegando a un cruce de calles sin semáforos ni policía, una persona está cruzando</p>

	<p>por la senda peatonal, Ud. debe:</p> <ul style="list-style-type: none"><li>A. Disminuir la marcha y tener cuidado.</li><li><b>B. Parar y cederle el paso al peatón.</b></li><li>C. Seguir y atravesar el cruce, porque tiene prioridad.</li></ul>
	<p>Al atravesar túneles o puentes en una ruta ¿está permitido adelantarse a otro vehículo?</p> <ul style="list-style-type: none"><li>A. Sí.</li><li><b>B. No.</b></li><li>C. Según los días y horas.</li></ul>
	<p>¿Está permitido detener un vehículo sobre una senda peatonal?</p> <ul style="list-style-type: none"><li><b>A. No.</b></li><li>B. Sí.</li><li>C. Según los casos.</li></ul>
	<p>¿Qué distancia debe dejarse entre el cordón de la acera y el vehículo, al estacionar en forma paralela al mismo?</p> <ul style="list-style-type: none"><li>A. 50 cm.</li><li>B. 10 cm.</li><li><b>C. 20 cm.</b></li></ul>
	<p>En un automóvil ¿cuál es la profundidad mínima que debe tener el dibujo de las cubiertas?</p> <ul style="list-style-type: none"><li>A. 0,5 mm.</li><li>B. 1,0 mm.</li><li><b>C. 1,6 mm.</b></li></ul>
	<p>¿Qué utilidad tienen los cinturones de seguridad?</p> <ul style="list-style-type: none"><li>A. Son útiles sólo para altas velocidades.</li><li>B. Sirven para proteger a los menores.</li><li><b>C. Evitan y/o disminuyen los daños físicos a las personas, en caso de accidentes.</b></li></ul>
	<p>Como norma de carácter general, ¿quién tiene prioridad de paso en una encrucijada o bocacalle?</p> <ul style="list-style-type: none"><li>A. Los vehículos de transporte de pasajero.</li><li>B. El vehículo de menor tamaño.</li><li><b>C. El vehículo que se presenta por el lado derecho.</b></li></ul>
	<p>En los vehículos que poseen cinturones de seguridad ¿es obligatorio usarlos?</p> <ul style="list-style-type: none"><li><b>A. Sí, todos sin excepción.</b></li><li>B. Sólo los que ocupen el asiento delantero, siendo opcional para los demás.</li><li>C. Sí, pero únicamente cuando circulen en rutas o autopistas.</li></ul>
	<p>Al estacionar su vehículo observa que no deja espacio suficiente para el paso de otros</p>

	<p>vehículos, por lo que estaciona ocupando parte de la acera ¿es correcto su comportamiento?</p> <p><b>A. No.</b>          B. Sí, siempre que no obstaculice el paso de los peatones por la acera.          C. Sí, pero únicamente por la noche, que es cuando menos tránsito de peatones hay.</p>
	<p>Ud. observa que una ambulancia se aproxima con las luces especiales encendidas ¿debe facilitarle el paso?</p> <p><b>A. No, porque sólo advierten de su presencia, pero no significa que estén realizando un servicio urgente.</b>          B. Sí, porque debo entender que circula en servicio de urgencia.          C. Sí, sólo cuando se advierta que está trasladando pacientes.</p>
	<p>Para advertir a otros conductores que va a realizar una maniobra con su vehículo, preferentemente lo hará con:</p> <p>A. El brazo.  <b>B. La señalización luminosa del vehículo.</b>          C. La señalización acústica del vehículo.</p>
	<p>Circula detrás de otros vehículos por una vía urbana. Si al llegar a una intersección prevé que va a quedar detenido en la misma obstruyendo la circulación transversal, ¿qué debe hacer?</p> <p>A. Pasar si tengo preferencia de paso.          B. Intentar atravesar la intersección en el caso de que la luz esté en verde.  <b>C. No penetrar en la intersección hasta estar seguro de que voy a poder franquearla sin ser un obstáculo.</b></p>
	<p>Los vehículos de emergencia ¿Cuándo tienen prioridad de paso?</p> <p>A. Siempre.  <b>B. Cuando están en una situación de emergencia.</b>          C. Cuando están en situación de emergencia y circulan por una avenida.</p>
	<p>¿En condiciones normales, a qué distancia mínima en tiempo debe circular en relación al vehículo que lo antecede?</p> <p>A. A una separación en tiempo de cinco segundos (5").  <b>B. A una separación en tiempo de dos segundos (2").</b>          C. A una separación en tiempo de tres segundos (3").</p>
	<p>¿Qué significa el término hidroplaneo (acuaplaning)?</p> <p>A. Que las cubiertas comienzan a desplazarse únicamente sobre una película de aceite.  <b>B. Que las cubiertas comienzan a desplazarse únicamente sobre una película de agua.</b>          C. Es el plazo de vida útil del vehículo.</p>
	<p>Una línea de trazo discontinuo demarcada sobre la calzada en forma paralela a su eje (a lo</p>

	<p>largo) ¿qué nos indica?</p> <p>A. Indica que la misma no puede ser traspasada, debiendo conservar su lugar el vehículo que circula contiguo a ella.</p> <p><b>B. Indica que puede ser traspasada para adelantar a otro vehículo.</b></p> <p>C. Que el asfalto se encuentra en mal estado de conservación.</p>
	<p>¿Qué significa la doble línea continua amarilla?</p> <p>A. Es una señalización que se utiliza únicamente para dividir los sentidos de circulación.</p> <p><b>B. Indica, para ambos sentidos de circulación, que no debe ser traspasada ni se puede circular sobre ella.</b></p> <p>C. Significa que solo pueden circular vehículos particulares.</p>
	<p>¿Qué es una arteria de doble mano?</p> <p>A. Una vía ancha que se cruza con otra vía.</p> <p><b>B. Una vía donde se circula en ambos sentidos de tránsito.</b></p> <p>C. Una vía reservada al uso de transporte público.</p>
	<p>Adelantarse en una curva está permitido:</p> <p>A. Solo si la curva no es muy cerrada.</p> <p>B. Solo si no viene un vehículo en sentido contrario.</p> <p><b>C. No, está prohibido.</b></p>
	<p>Determine que indica la señal que a continuación se presenta:</p> <p>A. Prohibido adelantarse.</p> <p><b>B. No ruidos molestos (bocina).</b></p> <p>C. Prohibición de luz alta.</p>
	<p>Determine qué indica la señal que a continuación se presenta:</p> <p>A. Camino de cornisa.</p> <p>B. Pendiente de ingreso.</p> <p><b>C. Pendiente descendente.</b></p>
	<p>Determine qué indica la señal que a continuación se presenta:</p> <p><b>A. Prohibido adelantarse.</b></p> <p>B. Prohibición de circular.</p> <p>C. Circulación exclusiva de bicicletas.</p>

	<p>Determine qué indica la señal que a continuación se presenta:</p> <ul style="list-style-type: none"><li>A. Girar a la izquierda.</li><li>B. Proximidad de obstáculo.</li><li>C. <b>Rotonda.</b></li></ul>
	<p>Determine qué indica la señal que a continuación se presenta:</p> <ul style="list-style-type: none"><li>A. Velocidad máxima.</li><li>B. <b>Velocidad mínima.</b></li><li>C. Velocidad controlada por radar.</li></ul>
	<p>Determine qué indica la señal que a continuación se presenta:</p> <ul style="list-style-type: none"><li>A. <b>Animales sueltos.</b></li><li>B. Zona Rural.</li><li>C. Zoológico.</li></ul>
	<p>Determine qué indica la señal que a continuación se presenta:</p> <ul style="list-style-type: none"><li>A. Limitación largo de vehículo.</li><li>B. <b>Circulación exclusiva (transporte público).</b></li><li>C. Tránsito pesado a la derecha.</li></ul>
	<p>Determine qué indica la señal que a continuación se presenta:</p> <ul style="list-style-type: none"><li>A. Prohibición de circular (bicicletas).</li><li>B. <b>Ciclistas.</b></li><li>C. Prohibición de circular (motos).</li></ul>
	<p>Determine qué indica la señal que a continuación se presenta:</p> <ul style="list-style-type: none"><li>A. Inicio de doble mano.</li><li>B. Estrechamiento (en una sola mano).</li><li>C. <b>Encrucijada (bifurcación).</b></li></ul>
	<p>Determine qué indica la señal que a continuación se presenta:</p> <ul style="list-style-type: none"><li>A. <b>Cruce ferroviario.</b></li><li>B. Estación ferroviaria.</li><li>C. Circulación exclusiva (ferrocarril).</li></ul>
	<p>Determine qué indica la señal que a continuación se presenta:</p> <ul style="list-style-type: none"><li>A. Inicio de doble mano.</li><li>B. Estrechamiento (en una sola mano).</li><li>C. <b>Encrucijada (bifurcación).</b></li></ul>

	<p>Determine qué indica la señal que a continuación se presenta:</p> <ul style="list-style-type: none"><li>A. Límite de velocidad mínima.</li><li>B. Velocidad controlada por radar.</li><li><b>C. Límite máximo de velocidad.</b></li></ul>
	<p>Determine qué indica la señal que a continuación se presenta:</p> <ul style="list-style-type: none"><li>A. Niños.</li><li><b>B. Escolares.</b></li><li>C. Cruce de peatones.</li></ul>
	<p>Determine qué indica la señal que a continuación se presenta:</p> <ul style="list-style-type: none"><li>A. Curva cerrada.</li><li><b>B. Giro obligatorio (izquierda).</b></li><li>C. Curva.</li></ul>
	<p>Determine qué indica la señal que a continuación se presenta:</p> <ul style="list-style-type: none"><li>A. Zona montañosa.</li><li><b>B. Perfil irregular.</b></li><li>C. Cruce ferroviario.</li></ul>
	<p>Determine qué indica la señal que a continuación se presenta:</p> <ul style="list-style-type: none"><li><b>A. Puente móvil.</b></li><li>B. Puente angosto.</li><li>C. Pendiente (descendente)</li></ul>
	<p>Determine qué indica la señal que a continuación se presenta:</p> <ul style="list-style-type: none"><li><b>A. Curva.</b></li><li>B. Giro obligatorio.</li><li>C. Camino sinuoso.</li></ul>
	<p>Determine qué indica la señal que a continuación se presenta:</p> <ul style="list-style-type: none"><li>A. Carril de emergencia.</li><li><b>B. No estacionar.</b></li><li>C. Carril exclusivo.</li></ul>



	<p>Determine qué indica la señal que a continuación se presenta:</p> <ul style="list-style-type: none"><li>A. No girar en U (no retomar).</li><li><b>B. No avanzar.</b></li><li>C. Puesto de control.</li></ul>
	<p>Determine qué indica la señal que a continuación se presenta:</p> <ul style="list-style-type: none"><li>A. Curva (común)</li><li><b>B. Sentido de circulación (izquierda)</b></li><li>C. Encrucijada (cruce)</li></ul>
	<p>Determine qué indica la señal que a continuación se presenta:</p> <ul style="list-style-type: none"><li>A. No avanzar.</li><li>B. Comienzo de doble mano.</li><li><b>C. Sentido de circulación (comienzo de sentido único).</b></li></ul>
	<p>Determine qué indica la señal que a continuación se presenta:</p> <ul style="list-style-type: none"><li>A. Prohibición de adelantarse.</li><li>B. Circulación exclusiva (motos).</li><li><b>C. Prohibición de circular (autos).</b></li></ul>
	<p>Determine qué indica la señal que a continuación se presenta:</p> <ul style="list-style-type: none"><li>A. Permitido retomar.</li><li>B. Camino sinuoso.</li><li><b>C. No girar en U (no retomar).</b></li></ul>
	<p>Determine qué indica la señal que a continuación se presenta:</p> <ul style="list-style-type: none"><li>A. No girar en U.</li><li><b>B. Prohibido girar a la izquierda.</b></li><li>C. Giro a la izquierda.</li></ul>
	<p>Determine qué indica la señal que a continuación se presenta:</p> <ul style="list-style-type: none"><li>A. Curva.</li><li>B. Giro obligatorio (izquierda).</li><li><b>C. Giro obligatorio (derecha).</b></li></ul>
	<p>A la vista de las señales de la fotografía, Ud. debe:</p>



- A. **Pasar por el lado que indica la flecha, porque hacia el lado izquierdo la entrada está prohibida.**
- B. Pasar por el lado que indica la flecha, porque hacia el lado izquierdo la circulación está prohibida en ambos sentidos de la marcha.
- C. Pasar por el lado que indica la flecha, aunque podría pasar por el lado izquierdo si observo que no se aproxima ningún vehículo en sentido contrario.

A la vista de la señal circular que se observa en la fotografía, ¿qué vehículo tendrá preferencia de paso si, en este tramo de vía, por su estrechez, es imposible el cruce de ambos vehículos?



- A. El automóvil.
- B. El vehículo que tenga más facilidad de maniobrar.
- C. **El camión.**

Ud. conduce su vehículo por esta calzada. A la vista de la señalización que se observa en la fotografía ¿le está permitido adelantar al automóvil rojo?



- A. Sí.
- B. Únicamente cuando no venga ningún vehículo en sentido contrario.
- C. No.**

En la ciudad, ¿está permitido usar la bocina de su vehículo para advertir al conductor del vehículo que circula delante que va a ser adelantado?

- A. Sí, siempre que sea a intervalos cortos y el sonido emitido no sea estridente.
- B. Sí, salvo prohibición expresa mediante la correspondiente señal.
- C. No, porque no es uno de los usos admitidos.**

Ud. circula conduciendo su vehículo por una vía urbana. ¿Debe llevar abrochado el cinturón de seguridad?

- A. Sí, en todos los casos.**
- B. No, porque sólo se exige utilizar el cinturón en vías interurbanas.
- C. No, si voy a poca velocidad.

En el vehículo que Ud. conduce va a viajar como pasajero su hijo de ocho años ¿está permitido que lo haga en el asiento delantero del mismo?

- A. No, en ningún caso.**
- B. No, salvo que utilice asientos de seguridad o dispositivos debidamente homologados para este fin.
- C. Sí, en todos los casos.


¿Dónde deben llevarse las balizas portátiles?

- A. En la guantera.
- B. En el interior del habitáculo, debidamente sujetas.
- C. En un lugar accesible.**

¿Cree Ud. que puede ser encandilado por las luces de otro vehículo que circula detrás del suyo?

- A. No, el deslumbramiento únicamente lo produce un vehículo en sentido contrario.
- B. Sí, siempre que lleve encendida la luz de largo alcance o alta.
- C. Sí, cuando el vehículo lleva encendidas las luces altas o, incluso, las luces bajas y por las características de la vía o porque las luces están desalineadas y circula próximo a mi vehículo existe la posibilidad de encandilamiento.**

En los casos de doble línea, compuesta una por un trazo continuo y otra por un trazo

	<p>discontinuo ¿cuál es la conducta a seguir?</p> <p>A. Podemos cruzarlas o no, siempre que lo hagamos con precaución.          B. No está permitido trasponerla.  <b>C. Debemos respetar lo que rige con respecto a la línea que está de nuestro lado (si es continua no cruzarla; si es discontinua está permitido cruzarla).</b></p>
	<p>Cuando un semáforo cambia de luz roja a verde, nos habilita a reiniciar la marcha, no obstante ello, ¿qué precauciones o limitaciones debemos adoptar?</p> <p>A. No iniciar el cruce si no hay espacio para acomodar el vehículo del otro lado sin obstruir la circulación transversal.          B. Permitir, antes de avanzar, que complete el cruce otro vehículo o peatón que lo está haciendo.  <b>C. Por lo menos, lo indicado en a y b.</b></p>
	<p>Si a los costados de la ruta observa una señal triangular como la que a continuación se presenta, ¿qué debe interpretarse?</p> <p>A. Peligro por la proximidad de una zona de la vía en la que la calzada se estrecha por el lado de la derecha.  <b>B. Peligro por la proximidad de una curva peligrosa hacia la derecha.</b>          C. Peligro por la existencia de un tramo de vía con fuerte pendiente ascendente.</p>
	<p>Según la Ley N° 2148, en una autopista está prohibido:</p> <p>A. sobrepasar a otros vehículos.          B. detenerse por causas de fuerza mayor.  <b>C. circular marcha atrás.</b></p>
	<p>Según el Manual del Conductor, cuando la luz naranja del semáforo peatonal se torna intermitente ¿Qué conducta debe tomar el peatón que espera para cruzar?</p> <p>A. No comenzar a cruzar la calzada.          B. Si está cruzando, finalizar el cruce con mucha precaución.  <b>C. Ambas respuestas (a y b) son correctas.</b></p>
	<p>Según el Manual del Conductor, en un incidente de tránsito ¿qué significa que el conductor es considerado responsable por impericia?</p> <p><b>A. Que no ha respondido adecuadamente a una circunstancia del tránsito por falta de conocimiento o práctica en la conducción.</b>          B. Que ha realizado un acto con su vehículo que las reglas de prudencia indican no hacer, o sea, que ha actuado peligrosamente.          C. Que ha tenido una conducta negligente al circular con un vehículo en mal estado.</p>
	<p>Según la Ley N° 24.449, ¿qué indica un cordón pintado de color rojo?</p> <p>A. Que está prohibido estacionar, pudiendo efectuarse la detención para ascenso y descenso de pasajeros.          B. Que ese un espacio reservado al estacionamiento exclusivo de vehículos destinados a servicio de emergencia.  <b>C. Que está prohibido estacionar o detenerse al costado de la acera.</b></p>

	<p>Según la Ley N° 24.449, ¿qué indica un cordón pintado de color amarillo?</p> <p><b>A. Indica que sólo está prohibido estacionar, pudiendo efectuarse detenciones para ascenso y descenso de carga y pasajeros.</b></p> <p>B. Indica que es un lugar reservado para el estacionamiento exclusivo de vehículos destinados al transporte de pasajeros.</p> <p>C. Indica que está prohibido estacionar o detenerse al costado de la acera.</p>
	<p>Según la Ley N° 2148, los vehículos destinados al servicio de emergencia, en cumplimiento de su función, tienen la prioridad de paso sobre todos los demás vehículos, además de esta ¿están exentos de cumplir otras normas?</p> <p>A. Sí, al ser vehículos destinados al servicio de emergencia la ley los exceptúa del cumplimiento de otras normas.</p> <p><b>B. Sí, están exentos de cumplir otras normas excepto las indicaciones de los agentes de control de tránsito.</b></p> <p>C. No, aun siendo vehículos destinados al servicio de emergencia, al circular por la vía pública están obligados a respetar las normas como el resto de los vehículos.</p>
	<p>Según la Ley N° 2148, un vehículo que no está destinado al servicio de emergencia, en caso de extrema necesidad ¿puede realizar un servicio similar al que efectúan estos últimos?</p> <p><b>A. Sí, debiendo advertirlo encendiendo las luces, empleando la bocina en forma intermitente y agitando un paño.</b></p> <p>B. Sí, el conductor de dicho vehículo deberá sacar un brazo por la ventanilla y agitarlo reiteradamente para indicarle al resto de los usuarios de la vía la situación en la que se encuentra.</p> <p>C. No, los servicios de emergencia sólo pueden ser efectuados por los vehículos habilitados para ese fin.</p>
	<p>Según la Ley N° 2148, los vehículos afectados al control del tránsito ¿pueden detenerse en cualquier parte de la vía pública?</p> <p>A. No, sólo pueden hacerlo en los lugares en donde esté permitido detenerse.</p> <p><b>B. Sí, cuando realicen tareas de control, siempre que no constituyan un obstáculo peligroso para otros vehículos.</b></p> <p>C. Sí, porque al ser un servicio de emergencia las restricciones en cuanto a la detención en la vía pública no los abarcan.</p>
	<p>Según la Ley N° 2148, en lo que respecta a las prioridades de paso, en encrucijadas sin semáforos ¿cuál es el orden jerárquico (de importancia) de las distintas arterias?</p> <p>A. pasaje, calle, avenida.</p> <p>B. calle, avenida, pasaje.</p> <p><b>C. avenida, calle, pasaje.</b></p>
	<p>La Ley N° 2148 establece como norma general que en las avenidas de doble sentido de circulación está prohibido estacionar vehículos:</p> <p><b>A. Junto a ambas aceras los días hábiles entre las 7 y las 21 horas.</b></p> <p>B. Junto a la acera derecha los días hábiles entre las 7 y las 21 horas.</p> <p>C. Junto a la acera izquierda los días hábiles entre las 7 y las 21 horas.</p>

	<p>La Ley N° 2148 establece como norma general que en las avenidas con sentido único de circulación está prohibido estacionar vehículos:</p> <ul style="list-style-type: none"> <li>A. Junto a la acera izquierda los días hábiles durante las 24 horas.</li> <li><b>B. Junto a la acera izquierda los días hábiles entre las 7 y las 21 horas.</b></li> <li>C. Junto a la acera derecha los días hábiles de 7 a 21 horas.</li> </ul>
	<p>La Ley N° 2148 establece como norma general que en las calles con sentido único de circulación está prohibido estacionar vehículos:</p> <ul style="list-style-type: none"> <li>A. Junto a la acera derecha los días hábiles durante las 24 horas.</li> <li>B. Junto a la acera izquierda los días hábiles de 7 a 21 horas.</li> <li><b>C. Junto a la acera izquierda todos los días durante las 24 horas.</b></li> </ul>
	<p>La Ley N° 2148 establece como norma general la prohibición de detenerse:</p> <ul style="list-style-type: none"> <li>A. En doble fila, excepto como detención para el ascenso o descenso de pasajeros.</li> <li><b>B. En doble fila, excepto como detención previa a la maniobra de estacionamiento.</b></li> <li>C. En doble fila, sin ninguna excepción.</li> </ul>
	<p>¿Cuándo se considera que un vehículo está detenido?</p> <ul style="list-style-type: none"> <li>A. Se considera detención a la permanencia en un sector de la vía pública de un vehículo por circunstancias de la circulación o por causas de fuerza mayor.</li> <li><b>B. Se considera detención a la permanencia de un vehículo junto a la acera por un tiempo estrictamente necesario para casos de control de tránsito realizado por autoridad competente, ascenso o descenso de pasajeros o para carga y descarga.</b></li> <li>C. Lo indicado en a y b.</li> </ul>
	<p>De acuerdo a lo que establece la Ley Nacional (24.449) y su reglamentación, con respecto al vehículo ¿qué documentación debe llevar?</p> <ul style="list-style-type: none"> <li>A. Recibo de pago de patente y cédula verde.</li> <li>B. Recibo de pago de patente y comprobante de pago del seguro.</li> <li><b>C. Recibo de pago de patente, comprobante de pago del seguro, cédula verde, y cuando correspondiera (taxi, remis, etc.) comprobante de verificación técnica del vehículo y habilitación.</b></li> </ul>
	<p>El alcohol produce en el conductor:</p> <ul style="list-style-type: none"> <li>A. Un aumento del campo visual.</li> <li><b>B. Un estado de euforia y de falsa seguridad en sí mismo.</b></li> <li>C. Una reducción del tiempo de reacción.</li> </ul>
	<p>Se considera a la niebla un factor de riesgo porque:</p> <ul style="list-style-type: none"> <li><b>A. Reduce el alcance de la visibilidad, produce condiciones resbaladizas en la calzada e induce a calcular mal las distancias.</b></li> <li>B. Aumenta la percepción de objetos pero se modifica la percepción de la distancia.</li> <li>C. Ambas respuestas, la a y la b, son correctas.</li> </ul>
	<p>Para indicar las velocidades máximas a desarrollar en zonas donde es habitual la formación</p>

	<p>de bancos de niebla, se utilizan señales horizontales en forma de letra V invertida ¿cómo se saben o reconocen esas velocidades máximas?</p> <p>A. Cuando un conductor alcanza a ver sólo una señal V invertida, la velocidad máxima no deberá superar los 40 km./h.</p> <p>B. Si alcanza a ver dos señales V invertidas, la velocidad máxima no deberá superar los 60 km./h.</p> <p><b>C. Lo indicado en a y b.</b></p>
	<p>Si al aproximarse a una bocacalle sin semáforo, Ud. advierte que un peatón pretende efectuar el cruce desde su izquierda hacia su derecha, ¿qué deberá hacer?</p> <p><b>A. cederle el paso, pues el peatón tiene prioridad.</b></p> <p>B. avanzar a velocidad precautoria, pues sólo tiene prioridad aquel que viene por la derecha.</p> <p>C. la prioridad de paso es del vehículo ya que su marcha es más difícil de controlar.</p>
	<p>La Ley C.A.B.A. 2148, establece la obligatoriedad de denunciar a la brevedad cualquier cambio de los datos consignados en la licencia de conducir. De no denunciarse dicho cambio, al cabo de cuánto tiempo caduca la misma?</p> <p>A. 60 días.</p> <p><b>B. 90 días.</b></p> <p>C. 120 días.</p>
	<p>Todo usuario de la vía pública debe, como premisa básica:</p> <p><b>A. asumir la obligación de no generar peligro innecesario</b></p> <p>B. acreditar experiencia de manejo en vehículos, que por su categoría de licencia le corresponda, no menor a un año</p> <p>C. concurrir a cursos de actualización en temática vial, con una frecuencia no mayor a seis meses.</p>
	<p>En materia de responsabilidad Civil, ¿qué es lo que se considera como factor determinante para dar inicio a una demanda?</p> <p>A. la intención de la conducta dañosa;</p> <p><b>B. la existencia de un daño real que afecte a algún particular, provocado como consecuencia del accidente</b></p> <p>C. la edad de la persona que provoca el daño.</p>
	<p>En materia de responsabilidad Penal, ¿puede ésta transferirse de una persona (por ejemplo, el conductor del vehículo que provoca el accidente) a otra (por ejemplo, el dueño del vehículo)?</p> <p><b>A. No, porque la responsabilidad penal es intransferible.</b></p> <p>B. Sí, y de éste último también puede transferirse a la Compañía de Seguros.</p> <p>C. El Juez resolverá en función de la gravedad del accidente y sus consecuencias.</p>
	<p>En cualquier circunstancia o situación posible, durante la circulación, ¿a qué le prestaría atención Ud. a fin de aumentar su seguridad y la de otros?</p> <p>A. El estado del pavimento, del auto y el clima</p>

	<p><b>B. Las condiciones en que se encuentra el automóvil, las condiciones relativas a infraestructura vial, las condiciones climáticas y el estado del conductor</b></p> <p>C. Las condiciones en que se encuentra el conductor, caudal de tránsito y tipo de cubiertas.</p>
	<p>¿Cuáles son los números de emergencia que todo usuario de la vía pública debe conocer con el objetivo de poder llamar y pedir ayuda ante un accidente de cualquier índole?</p> <p>A. 211 y/o 109.          B. 112 y/o 110.  <b>C. 911 y/o 107.</b></p>
	<p>La niebla, como factor de riesgo produce modificaciones en:</p> <p><b>A. el campo visual del conductor y su percepción del entorno, la capacidad lumínica del vehículo como la adherencia de sus cubiertas y la respuesta del pavimento.</b></p> <p>B. El campo visual del conductor y el estado del pavimento.          C. Sólo afecta la capacidad lumínica del vehículo y la respuesta de sus cubiertas en el avance.</p>
	<p>Ante la presencia de bancos de niebla y a fin de reducir riesgos, ¿qué es lo que se recomienda?</p> <p>A. Utilizar las luces rompeniebla, lo cual es suficiente porque permite ampliar la visibilidad del conductor.  <b>B. Conducir con ambas manos en el volante, reducir la velocidad, aumentar la distancia entre vehículos y utilizar las luces del vehículo correspondientes.</b>          C. Detenerse en la banquina hasta que levante el banco de niebla.</p>
	<p>Durante la circulación, el uso de telefonía celular está prohibida para el conductor porque en tanto factor de riesgo:</p> <p>A. disminuye su capacidad atencional y limita el sentido de la audición, aumentando el tiempo de reacción.          B. Debido a que el conductor debe mantener ambas manos comprometidas en la acción de conducir, el equipo celular reduciría la capacidad para maniobrar.  <b>C. Ambas respuestas (a y b) son correctas</b></p>
	<p>Durante la circulación, la prohibición del uso de telefonía celular afecta también al acompañante:</p> <p>A. en condiciones normales, no; pero sí cuando la circulación se realiza en condiciones de máximo peligro.  <b>B. La prohibición del uso de telefonía celular afecta sólo al conductor del vehículo.</b>          C. Ambas respuestas (a y b) son correctas</p>
	<p>Ante un eventual control de tránsito en vía pública, de constatar la Autoridad de Control algún tipo de falta por parte del conductor, el pago de la multa (sanción) podrá efectuarse:</p> <p>A. En ese mismo momento y ante la autoridad de control si ésta lo requiere.  <b>B. Ante el Tribunal de Faltas que lo determina como sanción a aplicar.</b>          C. Ambas respuestas (a y b) son correctas.</p>



	<p>Para realizar una maniobra de "ingreso a.../egreso de..." un garage o estacionamiento, el conductor debe cruzar la acera; si al hacerlo se encuentra con un transeúnte (peatón), ¿qué conducta debe adoptar el conductor?</p> <p><b>A. Priorizar la marcha del peatón, indefectiblemente.</b>          B. Realizar una guiñada para advertir su preferencia de avance.          C. Completar la maniobra como sea posible, para evitar su mayor exposición por encontrarse maniobrando en la vía de circulación.</p>
	<p>Todos los cristales de un vehículo deben garantizar visibilidad:</p> <p>A. Solamente desde dentro del automóvil hacia fuera.  <b>B. De adentro hacia fuera y de afuera hacia adentro (ambas direcciones).</b>          C. El único cristal que debe garantizar plena y total visibilidad es el parabrisas.</p>
	<p>Ud. viene circulando por una avenida de doble mano, y al llegar a la bocacalle precisa efectuar un giro a su izquierda; de acuerdo a la Ley N° 2148, ¿en qué condiciones puede efectuar esa maniobra?</p> <p><b>A. Sólo si hay semáforo de giro que me habilite o, en su defecto, si no hubiera ningún tipo de semáforo.</b>          B. Si mi semáforo de circulación está en verde, tomando las debidas precauciones y mirando atentamente a ambos lados          C. Es absolutamente indispensable que no venga ningún vehículo por la mano de circulación contraria a la de mi avance.</p>
	<p>¿Qué vehículo puede realizar el remolque de otro vehículo averiado en la vía pública?</p> <p>A. Cualquier vehículo que posea potencia suficiente para remolcar a otro vehículo y un elemento para asirlo firmemente sin riesgo alguno.          B. Cualquier vehículo que posea al menos algún tipo de elemento para asirlo firmemente sin riesgo.  <b>C. Sólo los vehículos destinados a ese fin.</b></p>
	<p>De acuerdo a lo que establece la Ley N° 2148, ¿estaría permitido agregar al vehículo luces adicionales?</p> <p><b>A. Está prohibido el agregado de luces o faros adicionales que no sean los descritos en esa misma ley, excepto el agregado de dos faros rompenieblas y de hasta dos faros elevados con luces de freno.</b>          B. No está prohibido agregar luces ya que cuanto más capacidad de iluminación tenga el automóvil, mejor visibilidad tiene el conductor.          C. No está permitido agregar ningún tipo de luz, solo eventualmente se podrá reponer las que traiga de fábrica en caso de destrucción.</p>
	<p>Cuando un conductor realiza la maniobra de circulación en reversa (marcha atrás), ¿cuál es la distancia establecida que puede recorrer en la realización dicha maniobra?</p> <p>A. Mínimamente 20 metros.          B. No más de 20 metros.  <b>C. El recorrido mínimo e indispensable.</b></p>
	<p>En cuánto al grado de tono o color que pueden tener los cristales de un automóvil, qué</p>

	<p>establece la Ley N° 2148, con respecto a su control en vía pública?</p> <p>A. Para medir el grado de tonalidad debe efectuarse una prueba colorimétrica mediante un dispositivo portátil reglamentado debidamente</p> <p><b>B. Se deben distinguir los ocupantes del vehículo a corta distancia.</b></p> <p>C. A 15 (quince) metros de distancia (medida de referencia) se debiera poder divisar las facciones del conductor.</p>
	<p>La ubicación y posición de las placas de identificación del vehículo (chapas patente) pueden sufrir algún tipo de modificación o cambio:</p> <p>A. Sólo eventualmente pueden amplificarse para mejorar su visibilidad.</p> <p><b>B. De ninguna manera, deben estar colocadas en posición y forma normal en los lugares reglamentarios.</b></p> <p>C. Sólo está prohibido modificar la placa de identificación delantera, no así la posterior.</p>
	<p>La negativa a realizar una prueba de alcoholemia ¿constituye una falta?</p> <p>A. Sólo si se ha incurrido en una infracción o participado en un accidente.</p> <p>B. No.</p> <p><b>C. Siempre.</b></p>
	<p>¿Cómo se debe dejar un vehículo durante el estacionamiento, en un terreno sin pendiente?</p> <p>A. Con el motor detenido.</p> <p><b>B. Con el motor detenido y sin cambio.</b></p> <p>C. Con el motor detenido y las ruedas delanteras transversales a la acera.</p>
	<p>¿Qué debe hacer cuando el automóvil que está adelante suyo, está esperando para doblar a la izquierda?</p> <p><b>A. Realizar el sobrepaso por la derecha colocando luz de giro y observando por los espejos.</b></p> <p>B. Realizar el sobrepaso con cuidado por la izquierda.</p> <p>C. Tocar bocina para indicarle que siga.</p>
	<p>¿Qué vehículo tiene prioridad para adelantarse, cuando varios circulan encolumnados?</p> <p>A. El que lo intente primero.</p> <p>B. El último de la fila.</p> <p><b>C. El que circula primero detrás del vehículo que se desea adelantar.</b></p>
	<p>¿Esta permitido estacionar el vehículo sobre la acera (vereda) para bajar a abrir o cerrar el acceso a un garaje?</p> <p><b>A. No.</b></p> <p>B. Solo por poco tiempo.</p> <p>C. Solo si la acera es ancha.</p>
	<p>Cuando vemos las luces rojas de un vehículo ¿qué significado tienen en cuanto al sentido de dirección de marcha del mismo?</p>

	<p><b>A. Que esta ubicado para circular en la misma dirección que nosotros.</b>          B. Que viene hacia nosotros.          C. Que esta descompuesto.</p>
	<p>¿Qué señales verticales (carteles) nos indican que no tenemos prioridad de paso en un cruce o bocacalle sin semáforo?</p> <p><b>A. Señal de Pare o Ceda el Paso.</b>          B. Señal de Prohibido Retomar.          C. Señal de Contramano o Dirección Obligatoria.</p>
	<p>¿Qué debe hacer el conductor que transita por una calle de doble sentido de circulación y encuentra ante él su mano obstruída en el momento que se aproxima otro vehículo por la mano contraria?</p> <p><b>A. Debe ceder el paso al otro vehículo.</b>          B. Tiene derecho a pasar primero.          C. No existe preferencia.</p>
	<p>Al efectuar un giro en una bocacalle estando encendida la luz verde del semáforo, entre el conductor y el peatón ¿Quién tiene prioridad de paso?</p> <p><b>A. El peatón.</b>          B. El conductor.          C. Es indistinto.</p>
	<p>El vehículo que circule por el carril obligatorio para tránsito lento, ¿puede abandonarlo para adelantar a otro más lento?</p> <p>A. No, nunca.  <b>B. Si, siempre que se respete la velocidades establecidas en las señales.</b>          C. Es indistinto.</p>
	<p>Si una calle de sentido único posee isletas, usted podrá circular por:</p> <p>A. El centro.          B. La parte derecha de la calzada.  <b>C. Cualquiera de los dos lados.</b></p>
	<p>Al pretender abandonar una autopista o semiautopista, ¿cuándo se debe reducir la velocidad?</p> <p><b>A. Cuando se haya entrado en el carril de desaceleración.</b>          B. A la entrada de la nueva vía de circulación.          C. Poco antes de abandonar la misma.</p>
	<p>¿Qué distintivo deben llevar colocado, en la parte interior del parabrisas y luneta del vehículo, los conductores principiantes?</p> <p><b>A. Están obligados a llevar, durante un período de seis (6) meses, un distintivo con la letra P en color blanco sobre fondo verde.</b>          B. Están obligados a llevar, durante un período de tres (3) meses, un distintivo con la letra P en color blanco sobre fondo verde.</p>

	<p>C. Están obligados a llevar, durante un período de doce (12) meses, un distintivo con la letra P en color blanco sobre fondo verde.</p>
	<p>Si el conductor de un vehículo toca repetidamente la bocina y el acompañante saca el brazo agitando un pañuelo. ¿Qué están indicando?</p> <p>A. Que el vehículo tiene un desperfecto. <b>B. Que transportan a una persona grave a un hospital.</b> C. Al exceso de velocidad y a la violación de luz roja.</p>
	<p>Ud. está llegando a un cruce de calles sin semáforos ni policía, una persona está cruzando por la senda peatonal, Ud. debe:</p> <p>A. Disminuir la marcha y tener cuidado. <b>B. Parar y cederle el paso al peatón.</b> C. Seguir y atravesar el cruce, porque tiene prioridad.</p>
	<p>¿Qué distancia debe dejarse entre el cordón de la acera y el vehículo, al estacionar en forma paralela al mismo?</p> <p>A. 50 cm. B. 10 cm. <b>C. 20 cm.</b></p>
	<p>En un automóvil ¿cuál es la profundidad mínima que debe tener el dibujo de las cubiertas?</p> <p>A. 0,5 mm. B. 1,0 mm. <b>C. 1,6 mm.</b></p>
	<p>¿Debe Ud. ceder el paso a una fila de escolares que circula por la calzada?</p> <p>A. No. <b>B. Sí.</b> C. Solo si advierto la existencia de un colegio cercano.</p>
	<p>¿Cuál es la velocidad mínima permitida en calles?</p> <p>A. 30 km/h. <b>B. 20 km/h.</b> C. 25 km/h.</p>
	<p>¿Qué nos indica en un semáforo, el encendido solamente de la luz roja, de manera intermitente?</p> <p><b>A. Que el semáforo está funcionando parcialmente y que nos aproximamos a un cruce peligroso, debiendo detener la marcha y reiniciándola sólo cuando se observe que no hay riesgo para continuar.</b> B. Que el semáforo funciona mal. C. Que va a cambiar a verde.</p>
	<p>¿Cuál es la velocidad máxima permitida en un cruce a nivel ferroviario sin barreras ni</p>

	<p>semáforos?</p> <p>A. 10 km./h. <b>B. 20 km./h.</b> C. 30 km./h.</p>
	<p>¿Cuál es la velocidad mínima permitida en avenidas?</p> <p>A. 40 km/h. B. 20 km/h. <b>C. 30 km/h.</b></p>
	<p>¿Qué requisitos debe reunir una vía de circulación (a diferencia de una autopista) para ser considerada una semiautopista (autovia) ?</p> <p><b>A. Tener cruces a nivel.</b> B. Tener semáforos y peaje. C. Ser elevadas y con dos carriles por mano.</p>
	<p>En caso de barrera baja ¿a qué distancia de ella se debe detener el vehículo si no hay línea de pare que lo indique?</p> <p>A. 7 metros. <b>B. 5 metros.</b> C. 2 metros.</p>
	<p>Con carácter general, cuando nos encontramos con una señal de PROHIBIDO ESTACIONAR ¿está permitido parar para subir o bajar pasajeros de un automóvil?"</p> <p><b>A. Si.</b> B. No. C. Según la hora.</p>
	<p>¿Qué requisito básico debe reunir una vía de circulación para ser considerada una autopista?"</p> <p><b>A. No tener cruces a nivel con otras vías.</b> B. Tener muchos carriles para circular. C. Tener que pagar peaje para circular.</p>
	<p>Cuando Ud. se acerca a un paso a nivel la barrera comienza a bajar para atravesarse en la calzada ¿debe Ud. cruzar el paso a nivel?</p> <p>A. Sí, siempre que observe que no se aproxima ningún vehículo que circule sobre raíles. <b>B. No, en ningún caso.</b> C. Sí, teniendo la precaución de cruzar antes de que esté la barrera completamente bajada.</p>